


2. SINIF

# Yeni Nesil HAYAT Bilgisi



Eleştirel Düşünme

Sözel Mantık Yürütme

Analitik Düşünme

Çıkarım Yapma

Problem Çözme

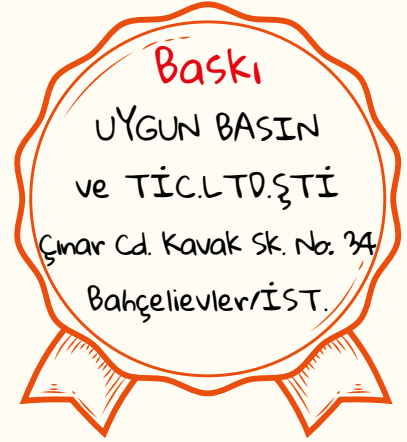
Karşılaştırma Yapma

ONburda  
yayıncılık

“

© Bu kitabın her hakkı ONburda Yayınlarına aittir.

İçindeki şekil, yazı, resim ve grafiklerin yayınevini izni olmaksızın elektronik, mekanik, fotokopi ya da herhangi bir kayıt sistemi ile çoğaltılması, yayımlanması ve depolanması yasaktır.

”

ISBN: 978-625-7167-82-6

**ONburda**  
yayıncılık

Kuva-i Milliye Mah. Hasan Tahsin Cad. No.: 50/B Karesi/BALIKESİR



0266 243 50 64



0532 637 10 85



[www.onburdayayinlari.com](http://www.onburdayayinlari.com)



e-satış: [www.onburdayayinlari.com](http://www.onburdayayinlari.com)



/onburdayayinlari



/onburdayayinlari

1. Aşağıdaki özelliklerden fiziksel özelliklerimize ait olan balonları boyayınız.



Gözlerimin rengi mavidir.

Gitar çalabiliyorum.



Spor yapmayı severim.

Gözlük takıyorum.



Saçlarım kıvrıktır.

Kiloluyum.



Uzun boyluyum.

Resim çizebiliyorum.



2. Aşağıdaki özelliklerden kendimize ait olanları işaretleyelim.

Gözlerimin rengi

- Kahverengi
- Mavi
- Yeşil
- Ela

Saçımın rengi

- Siyah
- Kahverengi
- Turuncu
- Sarı

Saçımın şekli

- Kıvrık
- Düz
- Dalgalı
- Uzun

Boyum

- Uzun
- Kısa

# BAŞKALARINI DİNLIYORUM

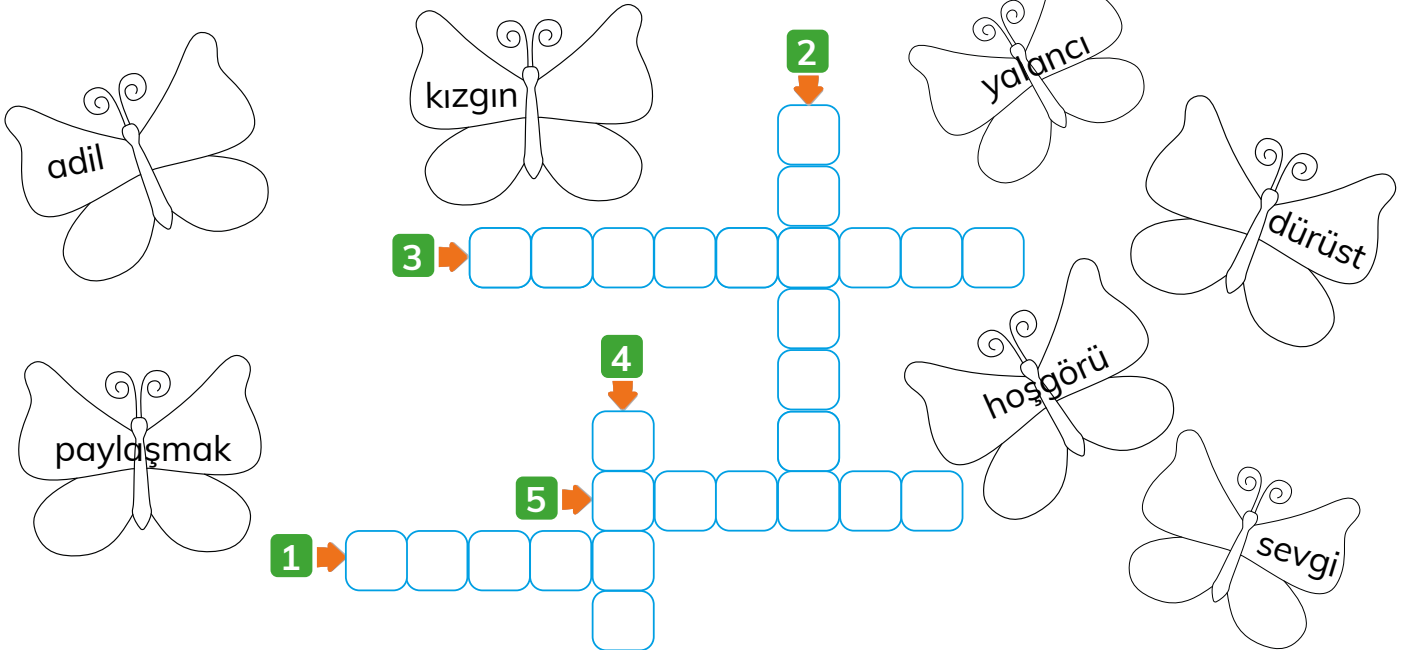


Okulda arkadaşlarımızla ve öğretmenlerimizle iletişim kurarken dinleme kurallarına uymalıyız. İyi dinleyici olmak için konuşan kişinin sözünü kesmemeliyiz. Dinlerken, konuşmacıyla göz teması kurmalıyız. Başka şeylerle ilgilenmemeliyiz. Sormak istediklerimiz için konuşmacının sözünün bitmesini beklemeliyiz.

Öğretmenimiz ders anlatırken etrafımızdakilerle konuşmadan onu dinlemeliyiz.

**Aşağıdaki cümleleri kelebeklerin içindeki ifadelerden uygun olanlarıyla tamamlayınız. Bu ifadeleri bulmacaya yerleştiriniz.**

1. Günümüzün büyük kısmını birlikte geçirdiğimiz arkadaşlarımıza karşı ..... ve saygı duyguları besleriz.
2. Grup çalışmalarında hata yapan arkadaşlarımıza ..... göstermeliyiz.
3. Sınıf çalışmalarında ihtiyacı olan arkadaşlarımızla araç gereçlerimizi ..... doğru bir davranıştır.
4. Çalışma grubundaki tüm arkadaşlarımızla ilişkilerimizde ..... davranmalıyız.
5. Grup çalışmalarında arkadaşlarımıza yalan söylemezsek onlara karşı ..... davranmış oluruz.



## TEST 1

1.   
- Sinan Melike Buğra

Yukarıdaki öğrencilerden hangileri sadece fiziksel özelliklerinden bahsetmiştir?

- A) Sinan - Buğra B) Buğra - Melike C) Yalnız Melike

2.  Tanımadığımız biriyle konuşurken kişisel bilgilerimizi vermemeliyiz.  
 Yabancıların verdiği hiçbir şeyi almamalıyız.  
 Bizi tanıdığını iddia eden ama bizim tanımadığımız biriyle sohbet edebiliriz.

Yukarıdaki cümlelerden doğru olanlara D, yanlış olanlara Y yazdığımızda doğru sıralama nasıl olur?

- A) D - D - Y B) D - Y - Y C) D - D - D

3. Aşağıdaki araç gereçlerden hangisi matematik dersinde kullanılabilir?



7, 8 ve 9. soruları aşağıdaki şekle göre yanıtlayınız.



7. Atatürk İlkokulu hangi sokaktadır?

A) Fındık Sokak

B) Gül Sokak

C) Belediye Sokak

8. Atatürk İlkokulunun karşısında hangisi yoktur?

A) Kütüphane

B) Vergi Dairesi

C) Market

9. Belediyenin karşısında hangisi yoktur?

A) Okul

B) Kütüphane

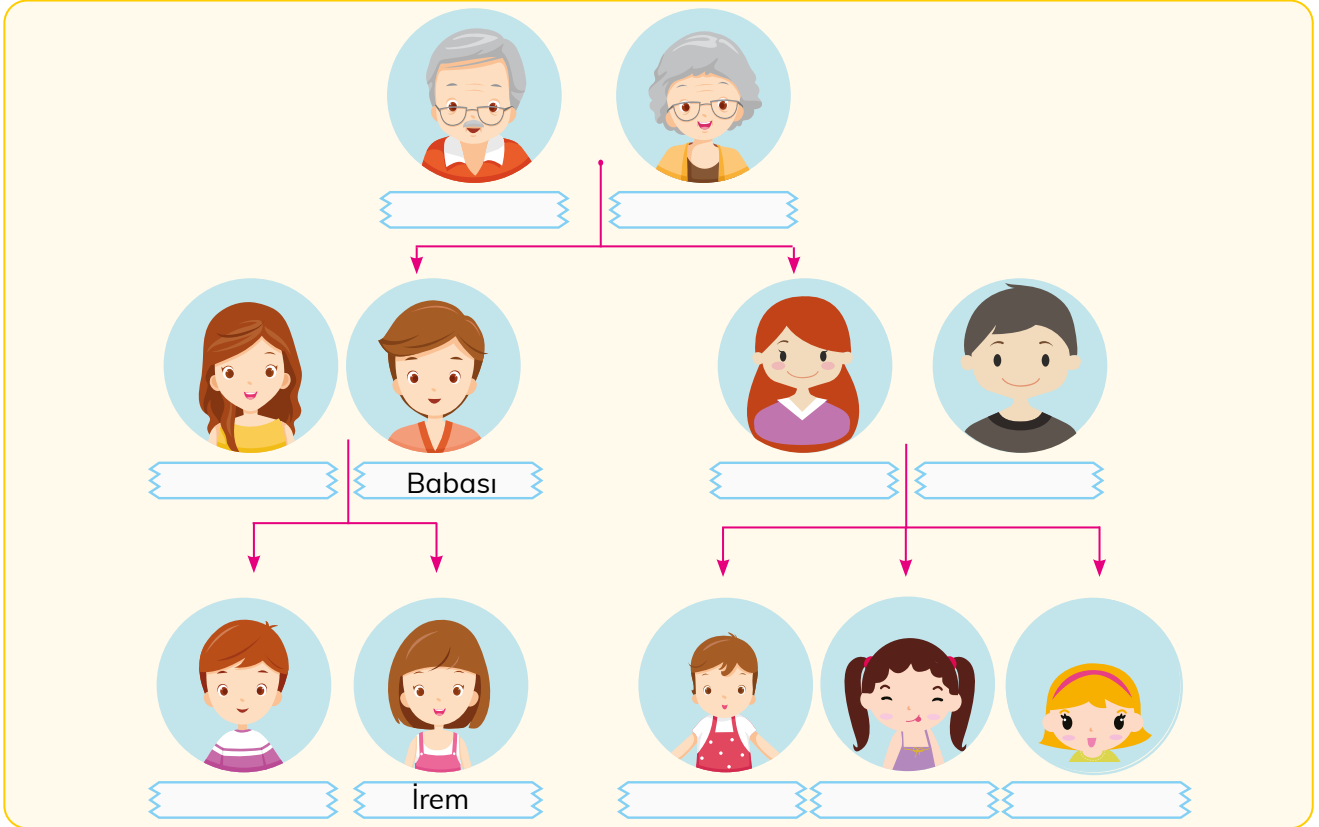
C) Manav

# YAKIN AKRABALARIM



Kan bağı veya evlilik yoluyla birbirine bağlı olan kişilere akraba denir. Anne ve babamızın kız ile erkek kardeşleri, onların çocukları, anne ve babaları akrabalarımızdır.

1. İrem'in aile soyağacı verilmiştir. Boşlukları uygun şekilde doldurunuz.



2. Aşağıdaki tanımlanan akrabalık adlarını yazınız.

- ✓ Annemin erkek kardeşi benim .....
- ✓ Babamın annesi benim .....
- ✓ Teyzemin çocuğu benim .....
- ✓ Annem ve babamın çocuğu benim .....
- ✓ Annemin kız kardeşi benim .....
- ✓ Babamın erkek kardeşi benim .....
- ✓ Babaannemin kızı benim .....
- ✓ Halamın çocuğu benim .....

## EVDEKİ SORUMLULUKLARIM



Evde günlük olarak yapılması gereken işler vardır. Bu işlerin yapılmasını sadece anne ve babamızdan beklememeliyiz. Bizler de yaşımıza uygun olan ev işlerini yaparak ailemize katkıda bulunmalıyız. Odamızı, çalışma masamızı temiz tutmalıyız. Oyuncaklarımızı özenli kullanmalı ve oyunumuzu bitirdikten sonra toplamalıyız. Giysilerimizi temiz ve düzenli tutmalıyız.

● Aşağıdakilerden hangileri evde üzerimize düşen görev ve sorumluluklarımızdandır? İşaretleyiniz.

- Yemek yapma
- Yatakların düzeltilmesi
- Market alışverişi
- Perdelerin asılması
- Dağılan eşyaların toplanması
- Çöpün atılması
- Ütü yapma
- Sofranın hazırlanması
- Ekmek alma
- Eşyaların tozunun alınması





# SAĞLIKLI BÜYÜYORUM



Sağlıklı büyüme ve gelişme için beslenmemize, uykumuza, kişisel bakımımıza ve spor yapmaya özen göstermeliyiz. Vücudumuzun ihtiyacı olan tüm besinlerden yeteri kadar tüketmeliyiz. Günde 10 saat uyumalıyız. Sık sık banyo yapmalı ve ellerimizi sabunla yıkamalıyız. Sağlıklı olmak ve hastalıklardan korunmak için spor yapmalıyız.

● Aşağıdaki sözcükleri bulmacadan bulup örnekteki gibi işaretleyiniz.

A	S	D	F	G	H	Y	T	R	E
B	Ü	<del>B</del>	<del>Ü</del>	<del>Y</del>	<del>Ü</del>	<del>M</del>	<del>E</del>	M	B
E	Z	C	V	H	M	A	T	C	S
S	S	P	O	R	H	S	D	G	A
L	Ü	Ş	B	A	K	I	M	U	Ğ
E	T	Y	R	B	T	Ö	Y	T	L
N	G	E	L	İ	Ş	M	E	I	I
M	C	A	Ş	O	Ç	H	İ	Y	K
E	T	S	U	Y	K	U	Y	I	T



<del>Büyüme</del>
Gelişme
Sağlık
Spor
Beslenme
Uyku
Bakım

● Aşağıda sağlık ile ilgili verilen bilgilerden doğru olanları işaretleyiniz.

- Sağlıklı bir hayat için düzenli spor yapmalıyız.
- Dişlerimizi her gün fırçalamalıyız.
- Tırnaklarımızı düzenli aralıklarla kesmeliyiz.
- Sağlıklı olmak için gece geç saate kadar oturmalıyız.
- Giysilerimizin temizliğine dikkat etmeliyiz.

7. Aşağıda verilen davranışlardan görgü kurallarına uygun olanlar işaretlenecektir.



Buna göre kaç tanesi işaretlenmelidir?

A) 1

B) 2

C) 3

8. Beyza, yemek yerken her zaman kıyafetlerinin kirlenmesine neden oluyordu.

Buna göre Beyza yemek yerken aşağıdakilerden hangisini yapmamalıdır?

A) Kaşık ya da çatalına küçük lokmalar almalıdır.

B) Peçete kullanmalıdır.

C) Yemek tabağını masaya değil kucağına koymalıdır.



9. Annesi Ali'ye akşam yemeğinde köfte yapmıştı. Ali köfteyi çok severdi. Bu nedenle bir an önce yemek istedi. Eline aldığı köfteleri hızlı hızlı ağzına attı. Tabağı çabucak bitmişti. Annesine teşekkür ederek odasına gitti.



Yukarıda anlatılan hikâyede Ali hangi görgü kuralını ihmal etmemiştir?

A) Annesine teşekkür etmeyi

B) Köfteleri elleriyle yemesi

C) Yemekten önce ve sonra ellerini yıkamayı

# ACİL DURUMLARDA NE YAPMALIYIM?



Yangın, hastalık, hırsızlık gibi yardıma ihtiyaç duyduğumuz acil durumlarda bize yardım eden kurumlar vardır. Bu kurumların telefon numaralarını iyi öğrenmeliyiz. Ayrıca bu kurumları arayıp gereksiz ihbarlarda bulunarak gerçekten yardıma ihtiyaç duyan kimseleri zor durumda bırakmamalıyız.



Acil durum olduğunda ailemize ve yakın çevremize ulaşabilmek için ailemizin ve yakın çevremizden olan kişilerin telefon numarasını bilmeliyiz. Ayrıca acil durum telefon numaralarını gereksiz meşgul etmemeliyiz.

## 1. Aşağıdaki durumlar ile aranacak numaraları eşleştiriniz.



a



b



c



ç

1

122

2

155

3

112

4

110

7. • Toplu taşıma araçlarında ..... yapmamalıyız.  
 • Toplu taşıma araçlarında ..... alanlara doğru ilerlemeliyiz.  
 • İneceğimiz zaman bir yetiştikinden ..... basmasını rica etmeliyiz.

Yukarıda verilen boşluklara sırasıyla hangi kelimeler yazılmalıdır?

- A) gürültü - boş - iniş düğmesine  
 B) sessiz - boş - iniş düğmesine  
 C) gürültü - boş - ayağımıza

8.



Efe ve ailesi Sivas'tan Avşa Adası'na gideceklerdir. Bunun için en hızlı yolu tercih etmektedirler. Avşa adasında havaalanının olmadığını bilen aile aşağıdaki durumlardan hangisinde en hızlı hareket ederler?

- A) Sivas - İstanbul arasında uçak, İstanbul - Avşa arasında ise deniz otobüsü  
 B) Sivas- İstanbul arasında otobüs, İstanbul - Avşa arasında ise deniz otobüsü  
 C) Sivas - İstanbul arasında uçak, İstanbul - Avşa arasında ise kayak

9. Aşağıda verilen alanlarda oyun oynamak için güvenli olanlar işaretlenecektir.



Buna göre kaç işaretleme yapılmalıdır?

- A) 2 B) 3 C) 4

# BAŞKENTİMİZ, YAŞADIĞIMIZ YER



Dünyamızın şekli yuvarlaktır. Yerküre Dünya'nın küçültülmüş modelidir. Yerküre ve harita üzerinde sular mavi renkte, ülkelerin yerleri farklı renklerle gösterilir. Ülkemiz Dünya'nın kuzey yarım küresindedir. Ülkemizin topraklarının bir kısmı Asya, bir kısmı Avrupa Kitası'ndadır. Ülkemizde 81 il vardır. Başkentimiz Ankara'dır.

## 1. Ülkemizle ilgili aşağıdaki soruları yanıtlayınız.



Ülkemizin adı

Ülkemizin başkenti

Yaşadığımız il

Ülkemizin kuzeyinde olan deniz

Ülkemizin güneyinde olan deniz

Ülkemizin batısında olan deniz

**TEST 5**

1. Her ülkenin kendine özgü bayrağı vardır. Bayrak o ülkenin bağımsızlığının sembolüdür. Şekillerin ve üzerindeki desenlerin bir anlamı vardır.

**Aşağıdakilerden hangisi bayrağımızın özelliklerinden değildir?**

- A) Zemini kırmızı renktedir.  
B) Kare şeklinde ay ve yıldız vardır.  
C) Ülkemizin bağımsızlık ve özgürlük sembolüdür.
2. Aşağıdaki ifadelerden doğru olanlara D, yanlış olanlara ise Y yazılacaktır.  
( ) Türkiye'nin kuzeyinde Karadeniz vardır.  
( ) Türkiye'nin güneyinde Akdeniz vardır.  
( ) Türkiye'nin batısında Marmara Denizi vardır.

**Buna göre ifadelerin başına sırasıyla hangileri yazılmalıdır?**

- A) Y - D - D                      B) Y - D - Y                      C) D - D - Y
3. İstiklâl Marşı'mızı ..... yazmıştır ve ..... bestelemiştir.

**Yukarıdaki ifadede boş bırakılan yerlere sırasıyla hangileri yazılmalıdır?**

- A) Zeki Üngör - Mehmet Âkif Ersoy  
B) Mustafa Kemal Atatürk - Mehmet Âkif Ersoy  
C) Mehmet Âkif Ersoy - Zeki Üngör
4. İstiklâl Marşı'mız okunurken aşağıdakilerden hangisini yapmamız yanlıştır?
- A) Arkadaşlarımızla ödevlerimiz hakkında konuşmak  
B) Hareket etmeden beklemek  
C) Saygıyla dinlemek

4. Aşağıda bitkilerle ilgili verilen sözcükleri tablodan bularak örnekteki gibi işaretleyiniz.

E	R	I	S	I	T	U	Y	I	P	O
†	A	Y	Z	L	N	S	O	Ğ	A	N
O	D	A	C	N	Ü	Ş	H	İ	M	L
H	J	P	G	Ü	B	R	E	Ö	N	H
U	B	R	H	T	O	P	R	A	K	F
M	N	A	M	Ş	N	Y	Ö	H	H	Ş
E	G	K	L	M	L	Ç	İ	Ç	E	K
D	H	A	V	A	N	F	L	S	S	U

<del>TOHUM</del>
SOĞAN
ISI
HAVA
SU
TOPRAK
YAPRAK
ÇİÇEK
GÜBRE



5. Aşağıdaki hayvanları tükettikleri besinleri ile eşleştiriniz.



○



○



○



○



○

○

○

○

○

○



2. Aşağıda tanımları verilen doğa olaylarını ve doğal afetlerini kutucukların içine yazınız.
1. Yer kabuğunun derin katmanlarının kırılıp yer değiştirmesi sonucu oluşan sarsıntı.
  2. Dağın bir noktasından kopup yuvarlanan ve yuvarlandıkça büyüyen kar kümesi.
  3. Havanın kendi etrafında hızla dönüp buluttan yeryüzüne uzanan sütun biçiminde fırtına türü.
  4. Yuvarlak veya düzensiz biçimli buz parçaları durumunda yere hızla düşen bir yağış türü.
  5. Yağışların etkisiyle toprağın alt tabakalarının gevşemesi sonucu üst tabakanın yerinden oynayarak hareket etmesi.
  6. Yeryüzüne beyaz ve hafif billurlar biçiminde donarak düşen su buharı.

1

--	--	--	--	--	--

2

--	--	--

3

--	--	--	--	--	--

4

--	--	--	--

5

--	--	--	--	--	--	--

6

--	--	--







## HAYAT BİLGİSİ


93. sayfa

- Doğal ..... dengenin korunması tüm canlılar için önemlidir.
- Yer ..... şekillerini uygun olduğu yerlerde insanlar için yaşam daha kolaydır.
- Toprağın ..... verimliliği insan yaşamını olumlu etkiler.
- İnsanlar tarih boyunca her zaman ..... su ..... kaynaklarına yakın yerlere yerleşmişlerdir.
- İklim ..... koşullarının elverişsiz olması insan yaşamını olumsuz etkiler.
- Çevremizdeki ..... doğal ..... unsurlar yaşamımızı olumlu ya da olumsuz etkileyebilir.
- Dağlık alanların fazla olduğu yerler kıyı ile iç kesimler arasında ulaşımı ..... olumsuz etkiler.
- Sisli havalar, hava ve ..... deniz ..... ulaşımını olumsuz etkileyerek insan yaşamını zorlaştırır.



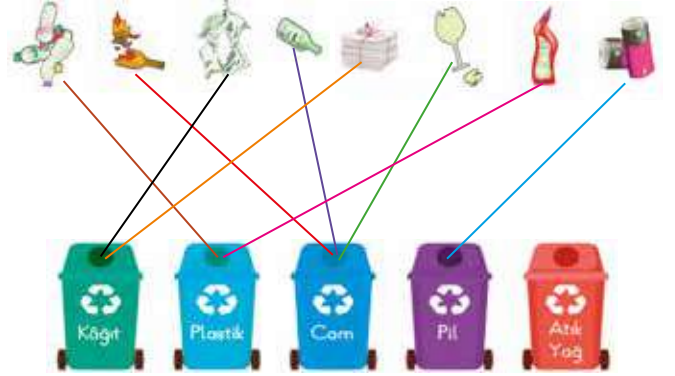

## HAYAT BİLGİSİ

94. sayfa




## HAYAT BİLGİSİ

95. sayfa



## HAYAT BİLGİSİ

96. sayfa



## HAYAT BİLGİSİ

97. sayfa



## HAYAT BİLGİSİ

98. sayfa

1. C 2. A 3. C 4. A 5. C 6. B 7. C 8. B 9. A 10. A  
11. A 12. C 13. A 14. C