

DENEMEYİ ÇÖZ!

PROBLEM ÇÖZME

GÖRSEL OKUMA

OKUDUĞUNU ANLAMA

ELEŞTİREL DÜŞÜNME



3
sınıf

Adı Soyadı:

Tarih: / /



Yukarıdaki görselleri verilen varlıkların adı alfabe sırasına göre dizilecektir.

1. Bu sıralama hangisinde doğru verilmiştir?

- A) 2 - 3 - 1 - 5 - 4
 B) 2 - 3 - 1 - 4 - 5
 C) 2 - 3 - 5 - 4 - 1

2.

"Kirli gel buraya!" diye seslendi anneannem. Kirli onun kedisinin adı. Gri ve siyah karışımı tüyleri onu gerçekten kirli gösteriyor. Bu yüzden de Kirli diyoruz ona. Uzun tüylü, uzun kuyruklu ve siyah burunlu bir kedidir o.

Metinde nitelenen kedi görseli aşağıdakilerden hangisidir?

A)







B)



C)



3.

Günaydın  Bugün okulun ilk günü  Yeni okulumu merak ediyorum  Eyvah, çantamı unutuyordum az daha 

Metindeki yıldızlardan hangisinin yerine diğerlerinden farklı bir noktalama işareti getirilmelidir?

A)



B)



C)



7. 3 A sınıfı öğrencileri ekim ayında okuyacağı kitapları seçmiştir.

Kitabın Adı	Kitabı Seçen Öğrenci Sayısı
Pinokyo	10
Beyaz Diş	5
Abartma Tozu	5



Tabloya göre aşağıdakilerden hangisi söylenemez?

- A) En çok Pinokyo seçilmiştir.
- B) 3A sınıfı okumayı çok sevmektedir.
- C) İki kitabı seçenlerin sayısı aynıdır.

8. Aşağıdaki sözcükler eş anlamlılarıyla eşleştirildiğinde mavi kutudaki sözcüklerden hangisi boşta kalır?

ALFABE

SÖZCÜK

KELİME

HIZLI

CEVAP

ABECE

DAVET

YANIT



- A) Davet
- B) Cevap
- C) Hızlı

6. Sınıf içerisinde yapılan deney aşağıdaki gibidir.



Gerekli malzemeler

Dört farklı içecek
(süt, su, meyve suyu, ayran)

Gözlerimizi kapatmak için tülbent veya benzeri bir malzeme

Dört farklı bardağa dört farklı içecek (su, ayran, süt, meyveli süt) koyuluyor. Bir öğrencinin gözleri kapatılarak içecekleri tek tek koklaması isteniyor. Öğrencinin içecekleri ayırt edebildiği gözlemleniyor.

Daha sonra öğrencinin burnu kapatılarak içecekleri içtiğinde içecekleri ayırt edemediğini fark ediyor.

Son olarak öğrenci içecekleri burnunu kapatmadan içiyor ve ne olduklarını doğru tahmin edebiliyor.

Buna göre yapılan etkinlik ile aşağıdaki sonuçlardan hangisine ulaşılır?


- A) Duyu organlarımızın sağlığı önemlidir. Onları korumamız gerekir.
- B) Tat alma ve koklama duyularımız birlikte çalışır.
- C) Burnumuz dilimizden çok daha duyarlıdır.





3. Tim is tall and thin. He can play basketball.

Choose the correct picture.



4. I'm energetic. Let's dance.

Choose the correct picture.

